


1. Хронологија је наука о рачунању времена. Пажљиво прочитај дату тврдњу и упиши годину на коју се тврдња односи:

1. Прва година XVII века _____
2. Трећа година прве деценије XII века _____
3. Последња година XX века _____
4. Четврта година пете деценије петнаестог века _____
5. Седма година друге деценије тринаестог века _____

2. Историјски извори су сведоци прошлих догађаја. Пажљиво прочитај дату тврдњу и упиши историјски извор на који се тврдња односи:

1. Догађаје бележе по годинама _____
2. Настају како би величали живот владара _____
3. Настају током преписивања, као кратке белешке _____
4. Налазимо их на надгробним споменицима _____

3. Пажњиво погледај карту, у бела поља упиши имена народа који су се ту населили непосредно по завршетку Велике сеобе народа и одговори на питања испод карте.



1. Којој групи народа припадају ови народи? _____
2. Који је од ових народа највише освајао? _____
3. Који је од ових народа највише рушио и уништавао? _____
4. Који је од ових народа населио Пиринејско полуострво? _____
5. Који је од ових народа населио Апенинско полуострво? _____

4. Који народи, град или личности повезују дате географске појмове?

Карпати, Балтик, Дњепар _____

1. Мраморно море, Босфор, Црно море _____

2. Врата народа, Панонска низија, Римско царство _____

3. Солун, Охрид, Моравска _____

5. Балкан је одувек био простор на коме су се сусретали многи народи. Пажљиво прочитај и одговори.

1. Који су словенски народи насељавали Балкан у средњем веку? _____

2. Који је од ових народа име донео из прапостојбине? _____

3. Који је суседни народ прихватио језик и обичаје Словена? _____

4. Који је народ раздвојио Јужне од Западних Словена? _____

6. Наведене личности поређај по времену живота и деловања: (бројем 1 означи личност која је прва живела и деловала).

___ Мухамед

___ Самуило

___ Саладин

___ Атила

___ Јустинијан

7. Заокружи Т ако је исказ тачан а Н ако је исказ нетачан.

а) Крсташки ратови су вођени од IX до XIII века

б) Мисионари су ширили само православље

в) Синоним за племића је властелин

г) Средњовековни градови су имали уређену канализацију

Т	Н
Т	Н
Т	Н
Т	Н

8. На линију поред тумачења упиши појам на који се тумачење односи:

1. Правни документи средњег века _____

2. Владарска породица _____

3. Прва хришћанска држава _____

4. Света књига муслимана _____

9. Срби су као и други народи на Балкану у XI веку имали своје државе. Пажњиво прочитај питања и одговори:

1. Ко је био први српски краљ у XI веку? _____

2. Које године је крунисан? _____




3. Одакле је послата круна за његово крунисање? _____

4. Којом државом је владао? _____

10. Попуни табелу, поред године упиши догађај:

626.	
843.	
863.	
1099.	

11. Пажљиво погледај слике владара, испод слике упиши: 1. Пуно име владара 2. Године владавине 3. Име наследника



а) 1. _____ 2. _____ 3. _____	б) 1. _____ 2. _____ 3. _____	в) 1. _____ 2. _____ 3. _____
-------------------------------------	-------------------------------------	-------------------------------------

12. Пажљиво прочитај и подвуци појам који не припада низу:

- а) Хуни, Готи, Арабљани, Англи
- б) мисионар, ходочасник, калифа
- в) архиепископ, парох, надбискуп, епископ

13. Попуни табелу тачним подацима који недостају:

Владар	Држава/ народ	Време владавине – век
	Србија	X
Атила		
	Бугарска	IX
Василије II		

14. Која од понуђених комбинација има сложу хијерархију од најнижег до највишег знања:

- а) мајстор, калфа, шегрт
- б) мајстор, шегрт, калфа
- в) шегрт, калфа, мајстор
- г) калфа, шегрт, мајстор

15. Пажљиво прочитај и одговори на питања:

1. У ком веку настају универзитети? _____
2. У којим државама настају први универзитети? _____
3. Да ли универзитети постоје и данас? _____

	Одговор			Бодови
1.	1.1601. 2. 1103. 3. 2000. 4. 1444. 5.1217			1. 1+1+1+1+1=5
2.	1. Летописи 2. Биографије(животописи, житија) владара 3. Записи 4. Натписи			2. 1+1+1+1=4
3.	(карта) 1. Франци 2. Визиготи (Западни Готи) 3. Остроготи (Источни Готи) 4. Вандали 1. Германи, германска племена 2. Франци 3. Вандали 4. Визиготи (Западни Готи) 5. Остроготи (Источни Готи)			3.) 4/0(карта) 1+1+1+1+1=5 Укупно 9
4.	1. Словени 2. Цариград (Константинопољ) 3. Хуни 4. Ђирило(Константин) и Методије			4.) 1+1+1+1=4
5.	1. Срби, Хрвати, Словенци 2. Срби и Хрвати 3. Бугари 4. Мађари			5.) 1+1+1+1=4
6.	3,4,5,1,2			6. 5/0
7.	Н,Н,Т,Н			7.) 1+1+1+1=4
8.	1. Повеље (законик) 2. Династија 3. Византија (ако ученици напишу Јерменија, одговор се признаје) 4. Куран			8.) 1+1+1+1=4
9.	1. Михаило 2. 1077. 3. Рим (папа) 4. Дукља			9.) 1+1+1+1=4
10.	626.	Опсада Цариграда		10.) 1+1+1+1= 4
	843.	Подела Франачке државе		
	863.	Мисија Ђирила и Методија		
	1099.	Крсташи освајају Јерусалим (крај Првог крсташког рата)		
11.	а) 1. Стефан Немања, 2. 1166–1196. 3. Стефан Немањић (Првовенчани) б) 1. Стефан Милутин 2. 1282- 1321. 3. Стефан Дечански в) 1. Стефан Душан 2. 1331.- 1355. 3. Стефан Урош			11.) а)1+6)1+ в)1= 3
12.	а) Арабљани б) калифе в) надбискуп			12.) 1+1+1= 3
13.	Владар	Држава/ народ	Време владавине век	13.) 6
	Часлав	Србија	X	
	Атила	Хуни	V	
	Симеон	Бугарска	IX	
	Василије II	Византија	X/XI	
14.	в) шегрт, калфа, мајстор			14.) 1
15.	1. XII 2. Италија и Француска 3. да			15.) 1+1+1=3
Укупно				63

прво место 60–63

друго место 55–59

треће место 50–54